

МИНИСТЕРСТВО ПРОСВЕЩЕНИЯ РОССИЙСКОЙ ФЕДЕРАЦИИ
Муниципальное бюджетное общеобразовательное учреждение
«Элистинский лицей»

РАССМОТРЕНО

Руководитель МО учителей
математики, физики и
информатики *В. Волы*

Протокол № 1

от 04.09.23

СОГЛАСОВАНО

Заместитель директора

по УВР

О.А. Харцхаева
О.А. Харцхаева

УТВЕРЖДЕНО

Директор МБОУ
«Элистинский лицей»

С.С. Анжирова
С.С. Анжирова.



РАБОЧАЯ ПРОГРАММА

учебного предмета «Геометрия»

для 8 – 9 классов основного общего образования

Срок освоения программы: 2 года

Составитель:

Очирова Ильяна Васильевна,

учитель математики

Элиста, 2023

ОГЛАВЛЕНИЕ

РАЗДЕЛ 1. Пояснительная записка

РАЗДЕЛ 2. Содержание обучения

2.1. 8 класс

2.2. 9 класс

РАЗДЕЛ 3. Планируемые результаты освоения программы учебного курса «геометрия» на уровне основного общего образования

3.1. Личностные результаты

3.2. Метапредметные результаты

3.3. Предметные результаты

3.3.1. 8 класс

3.3.2. 9 класс

РАЗДЕЛ 4. Тематическое планирование

4.1. 8 класс

4.2. 9 класс

РАЗДЕЛ 5. Поурочное планирование

8 класс

9 класс

РАЗДЕЛ 6. Учебно-методическое обеспечение образовательного процесса

6.1. Обязательные учебные материалы для ученика

6.2. Методические материалы для учителя

6.3. Цифровые образовательные ресурсы и ресурсы сети интернет

ПРИЛОЖЕНИЕ 1. Примерные контрольные работы для 8 класса

ПРИЛОЖЕНИЕ 2. Примерные контрольные работы для 9 класса

ПРИЛОЖЕНИЕ 3. Шкала оценивания

ПОЯСНИТЕЛЬНАЯ ЗАПИСКА

Геометрия как один из основных разделов школьной математики, имеющий своей целью обеспечить изучение свойств и размеров фигур, их отношений и взаимное расположение, опирается на логическую, доказательную линию. Ценность изучения геометрии на уровне основного общего образования заключается в том, что обучающийся учится проводить доказательные рассуждения, строить логические умозаключения, доказывать истинные утверждения и строить контрпримеры к ложным, проводить рассуждения «от противного», отличать свойства от признаков, формулировать обратные утверждения.

Второй целью изучения геометрии является использование её как инструмента при решении как математических, так и практических задач, встречающихся в реальной жизни. Обучающийся должен научиться определить геометрическую фигуру, описать словами данный чертёж или рисунок, найти площадь земельного участка, рассчитать необходимую длину оптоволоконного кабеля или требуемые размеры гаража для автомобиля. Этому соответствует вторая, вычислительная линия в изучении геометрии. При решении задач практического характера обучающийся учится строить математические модели реальных жизненных ситуаций, проводить вычисления и оценивать адекватность полученного результата.

Крайне важно подчёркивать связи геометрии с другими учебными предметами, мотивировать использование определений геометрических фигур и понятий, демонстрировать применение полученных умений в физике и технике. Эти связи наиболее ярко видны в темах «Векторы», «Тригонометрические соотношения», «Метод координат» и «Теорема Пифагора».

Учебный курс «Геометрия» включает следующие основные разделы содержания: «Геометрические фигуры и их свойства», «Измерение геометрических величин», «Декартовы координаты на плоскости», «Векторы», «Движения плоскости», «Преобразования подобия».

На изучение учебного курса «Геометрия» отводится 136 часов: в 8 классе – 68 часов (2 часа в неделю), в 9 классе – 68 часов (2 часа в неделю).

СОДЕРЖАНИЕ ОБУЧЕНИЯ

8 КЛАСС

Четырёхугольники. Параллелограмм, его признаки и свойства. Частные случаи параллелограммов (прямоугольник, ромб, квадрат), их признаки и свойства. Трапеция, равнобокая трапеция, её свойства и признаки. Прямоугольная трапеция.

Метод удвоения медианы. Центральная симметрия. Теорема Фалеса и теорема о пропорциональных отрезках.

Средние линии треугольника и трапеции. Центр масс треугольника.

Подобие треугольников, коэффициент подобия. Признаки подобия треугольников. Применение подобия при решении практических задач.

Свойства площадей геометрических фигур. Формулы для площади треугольника, параллелограмма, ромба и трапеции. Отношение площадей подобных фигур.

Вычисление площадей треугольников и многоугольников на клетчатой бумаге.

Теорема Пифагора. Применение теоремы Пифагора при решении практических задач.

Синус, косинус, тангенс острого угла прямоугольного треугольника. Основное тригонометрическое тождество. Тригонометрические функции углов в 30° , 45° и 60° .

Вписанные и центральные углы, угол между касательной и хордой. Углы между хордами и секущими. Вписанные и описанные четырёхугольники. Взаимное расположение двух окружностей. Касание окружностей. Общие касательные к двум окружностям.

9 КЛАСС

Синус, косинус, тангенс углов от 0 до 180° . Основное тригонометрическое тождество. Формулы приведения.

Решение треугольников. Теорема косинусов и теорема синусов. Решение практических задач с использованием теоремы косинусов и теоремы синусов.

Преобразование подобия. Подобие соответственных элементов.

Теорема о произведении отрезков хорд, теоремы о произведении отрезков секущих, теорема о квадрате касательной.

Вектор, длина (модуль) вектора, сонаправленные векторы, противоположно направленные векторы, коллинеарность векторов, равенство векторов, операции над векторами. Разложение вектора по двум неколлинеарным векторам. Координаты вектора. Скалярное произведение векторов, применение для нахождения длин и углов.

Декартовы координаты на плоскости. Уравнения прямой и окружности в координатах, пересечение окружностей и прямых. Метод координат и его применение.

Правильные многоугольники. Длина окружности. Градусная и радианная мера угла, вычисление длин дуг окружностей. Площадь круга, сектора, сегмента.

Движения плоскости и внутренние симметрии фигур (элементарные представления). Параллельный перенос. Поворот.

ПЛАНИРУЕМЫЕ РЕЗУЛЬТАТЫ ОСВОЕНИЯ ПРОГРАММЫ УЧЕБНОГО КУРСА «ГЕОМЕТРИЯ» НА УРОВНЕ ОСНОВНОГО ОБЩЕГО ОБРАЗОВАНИЯ

ЛИЧНОСТНЫЕ РЕЗУЛЬТАТЫ

Личностные результаты освоения программы учебного курса «Геометрия» характеризуются:

1) патриотическое воспитание:

проявлением интереса к прошлому и настоящему российской математики, ценностным отношением к достижениям российских математиков и российской математической школы, к использованию этих достижений в других науках и прикладных сферах;

2) гражданское и духовно-нравственное воспитание:

готовностью к выполнению обязанностей гражданина и реализации его прав, представлением о математических основах функционирования различных структур, явлений, процедур гражданского общества (например, выборы, опросы), готовностью к обсуждению этических проблем, связанных с практическим применением достижений науки, осознанием важности морально-этических принципов в деятельности учёного;

3) трудовое воспитание:

установкой на активное участие в решении практических задач математической направленности, осознанием важности математического образования на протяжении всей жизни для успешной профессиональной деятельности и развитием необходимых умений, осознанным выбором и построением индивидуальной траектории образования и жизненных планов с учётом личных интересов и общественных потребностей;

4) эстетическое воспитание:

способностью к эмоциональному и эстетическому восприятию математических объектов, задач, решений, рассуждений, умению видеть математические закономерности в искусстве;

5) ценности научного познания:

ориентацией в деятельности на современную систему научных представлений об основных закономерностях развития человека, природы и общества, пониманием математической науки как сферы человеческой деятельности, этапов её развития и значимости для развития цивилизации, овладением языком математики и математической

культурой как средством познания мира, овладением простейшими навыками исследовательской деятельности;

6) физическое воспитание, формирование культуры здоровья и эмоционального благополучия:

готовностью применять математические знания в интересах своего здоровья, ведения здорового образа жизни (здоровое питание, сбалансированный режим занятий и отдыха, регулярная физическая активность), сформированностью навыка рефлексии, признанием своего права на ошибку и такого же права другого человека;

7) экологическое воспитание:

ориентацией на применение математических знаний для решения задач в области сохранности окружающей среды, планирования поступков и оценки их возможных последствий для окружающей среды, осознанием глобального характера экологических проблем и путей их решения;

8) адаптация к изменяющимся условиям социальной и природной среды:

готовностью к действиям в условиях неопределённости, повышению уровня своей компетентности через практическую деятельность, в том числе умение учиться у других людей, приобретать в совместной деятельности новые знания, навыки и компетенции из опыта других;

необходимостью в формировании новых знаний, в том числе формулировать идеи, понятия, гипотезы об объектах и явлениях, в том числе ранее неизвестных, осознавать дефициты собственных знаний и компетентностей, планировать своё развитие;

способностью осознавать стрессовую ситуацию, воспринимать стрессовую ситуацию как вызов, требующий контрмер, корректировать принимаемые решения и действия, формулировать и оценивать риски и последствия, формировать опыт.

МЕТАПРЕДМЕТНЫЕ РЕЗУЛЬТАТЫ

Познавательные универсальные учебные действия

Базовые логические действия:

- выявлять и характеризовать существенные признаки математических объектов, понятий, отношений между понятиями, формулировать определения понятий, устанавливать существенный признак классификации, основания для обобщения и сравнения, критерии проводимого анализа;
- воспринимать, формулировать и преобразовывать суждения: утвердительные и отрицательные, единичные, частные и общие, условные;
- выявлять математические закономерности, взаимосвязи и противоречия в фактах, данных, наблюдениях и утверждениях, предлагать критерии для выявления закономерностей и противоречий;
- делать выводы с использованием законов логики, дедуктивных и индуктивных умозаключений, умозаключений по аналогии;
- разбирать доказательства математических утверждений (прямые и от противного), проводить самостоятельно несложные доказательства математических фактов, выстраивать аргументацию, приводить примеры и контрпримеры, обосновывать собственные рассуждения;
- выбирать способ решения учебной задачи (сравнивать несколько вариантов решения, выбирать наиболее подходящий с учётом самостоятельно выделенных критериев).

Базовые исследовательские действия:

- использовать вопросы как исследовательский инструмент познания, формулировать вопросы, фиксирующие противоречие, проблему, самостоятельно устанавливать искомое и данное, формировать гипотезу, аргументировать свою позицию, мнение;

- проводить по самостоятельно составленному плану несложный эксперимент, небольшое исследование по установлению особенностей математического объекта, зависимостей объектов между собой;
- самостоятельно формулировать обобщения и выводы по результатам проведённого наблюдения, исследования, оценивать достоверность полученных результатов, выводов и обобщений;
- прогнозировать возможное развитие процесса, а также выдвигать предположения о его развитии в новых условиях.

Работа с информацией:

- выявлять недостаточность и избыточность информации, данных, необходимых для решения задачи; ...
- выбирать, анализировать, систематизировать и интерпретировать информацию различных видов и форм представления;
- выбирать форму представления информации и иллюстрировать решаемые задачи схемами, диаграммами, иной графикой и их комбинациями;
- оценивать надёжность информации по критериям, предложенным учителем или сформулированным самостоятельно.

Коммуникативные универсальные учебные действия:

- воспринимать и формулировать суждения в соответствии с условиями и целями общения, ясно, точно, грамотно выражать свою точку зрения в устных и письменных текстах, давать пояснения по ходу решения задачи, комментировать полученный результат;
- в ходе обсуждения задавать вопросы по существу обсуждаемой темы, проблемы, решаемой задачи, высказывать идеи, нацеленные на поиск решения, сопоставлять свои суждения с суждениями других участников диалога, обнаруживать различие и сходство позиций, в корректной форме формулировать разногласия, свои возражения;
- представлять результаты решения задачи, эксперимента, исследования, проекта, самостоятельно выбирать формат выступления с учётом задач презентации и особенностей аудитории;
- понимать и использовать преимущества командной и индивидуальной работы при решении учебных математических задач;
- принимать цель совместной деятельности, планировать организацию совместной работы, распределять виды работ, договариваться, обсуждать процесс и результат работы, обобщать мнения нескольких людей;
- участвовать в групповых формах работы (обсуждения, обмен мнениями, мозговые штурмы и другие), выполнять свою часть работы и координировать свои действия с другими членами команды, оценивать качество своего вклада в общий продукт по критериям, сформулированным участниками взаимодействия.

Регулятивные универсальные учебные действия

Самоорганизация:

- самостоятельно составлять план, алгоритм решения задачи (или его часть), выбирать способ решения с учётом имеющихся ресурсов и собственных возможностей, аргументировать и корректировать варианты решений с учётом новой информации.

Самоконтроль, эмоциональный интеллект:

- владеть способами самопроверки, самоконтроля процесса и результата решения математической задачи;
- предвидеть трудности, которые могут возникнуть при решении задачи, вносить коррективы в деятельность на основе новых обстоятельств, найденных ошибок, выявленных трудностей;
- оценивать соответствие результата деятельности поставленной цели и условиям, объяснять причины достижения или недостижения цели, находить ошибку, давать оценку приобретённому опыту.

ПРЕДМЕТНЫЕ РЕЗУЛЬТАТЫ

К концу обучения в **8 классе** обучающийся получит следующие предметные результаты:

Распознавать основные виды четырёхугольников, их элементы, пользоваться их свойствами при решении геометрических задач.

Применять свойства точки пересечения медиан треугольника (центра масс) в решении задач.

Владеть понятием средней линии треугольника и трапеции, применять их свойства при решении геометрических задач. Пользоваться теоремой Фалеса и теоремой о пропорциональных отрезках, применять их для решения практических задач.

Применять признаки подобия треугольников в решении геометрических задач.

Пользоваться теоремой Пифагора для решения геометрических и практических задач. Строить математическую модель в практических задачах, самостоятельно делать чертёж и находить соответствующие длины.

Владеть понятиями синуса, косинуса и тангенса острого угла прямоугольного треугольника. Пользоваться этими понятиями для решения практических задач.

Вычислять (различными способами) площадь треугольника и площади многоугольных фигур (пользуясь, где необходимо, калькулятором). Применять полученные умения в практических задачах.

Владеть понятиями вписанного и центрального угла, использовать теоремы о вписанных углах, углах между хордами (секущими) и угле между касательной и хордой при решении геометрических задач.

Владеть понятием описанного четырёхугольника, применять свойства описанного четырёхугольника при решении задач.

Применять полученные знания на практике – строить математические модели для задач реальной жизни и проводить соответствующие вычисления с применением подобия и тригонометрии (пользуясь, где необходимо, калькулятором).

К концу обучения в **9 классе** обучающийся получит следующие предметные результаты:

Знать тригонометрические функции острых углов, находить с их помощью различные элементы прямоугольного треугольника («решение прямоугольных треугольников»). Находить (с помощью калькулятора) длины и углы для нетабличных значений.

Пользоваться формулами приведения и основным тригонометрическим тождеством для нахождения соотношений между тригонометрическими величинами.

Использовать теоремы синусов и косинусов для нахождения различных элементов треугольника («решение треугольников»), применять их при решении геометрических задач.

Владеть понятиями преобразования подобия, соответственных элементов подобных фигур. Пользоваться свойствами подобия произвольных фигур, уметь вычислять длины и находить углы у подобных фигур. Применять свойства подобия в практических задачах. Уметь приводить примеры подобных фигур в окружающем мире.

Пользоваться теоремами о произведении отрезков хорд, о произведении отрезков секущих, о квадрате касательной.

Пользоваться векторами, понимать их геометрический и физический смысл, применять их в решении геометрических и физических задач. Применять скалярное произведение векторов для нахождения длин и углов.

Пользоваться методом координат на плоскости, применять его в решении геометрических и практических задач.

Владеть понятиями правильного многоугольника, длины окружности, длины дуги окружности и радианной меры угла, уметь вычислять площадь круга и его частей. Применять полученные умения в практических задачах.

Находить оси (или центры) симметрии фигур, применять движения плоскости в простейших случаях.

Применять полученные знания на практике – строить математические модели для задач реальной жизни и проводить соответствующие вычисления с применением подобия и тригонометрических функций (пользуясь, где необходимо, калькулятором).

ТЕМАТИЧЕСКОЕ ПЛАНИРОВАНИЕ

8 КЛАСС

№ п/п	Наименование разделов и тем программы	Количество часов		Электронные (цифровые) образовательные ресурсы
		Всего	Контрольные работы	
1	Четырёхугольники	12	1	Библиотека ЦОК https://m.edsoo.ru/7f417e18
2	Теорема Фалеса и теорема о пропорциональных отрезках, подобные треугольники	15	1	Библиотека ЦОК https://m.edsoo.ru/7f417e18
3	Площадь. Нахождение площадей треугольников и многоугольных фигур. Площади подобных фигур	14	1	Библиотека ЦОК https://m.edsoo.ru/7f417e18
4	Теорема Пифагора и начала тригонометрии	10	1	Библиотека ЦОК https://m.edsoo.ru/7f417e18
5	Углы в окружности. Вписанные и описанные четырехугольники. Касательные к окружности. Касание окружностей	13	1	Библиотека ЦОК https://m.edsoo.ru/7f417e18
6	Повторение, обобщение знаний	4	1	Библиотека ЦОК https://m.edsoo.ru/7f417e18
ОБЩЕЕ КОЛИЧЕСТВО ЧАСОВ ПО ПРОГРАММЕ		68	6	

9 КЛАСС

№ п/п	Наименование разделов и тем программы	Количество часов		Электронные (цифровые) образовательные ресурсы
		Всего	Контрольные работы	
1	Тригонометрия. Теоремы косинусов и синусов. Решение треугольников	16	1	Библиотека ЦОК https://m.edsoo.ru/7f41a12c
2	Преобразование подобия. Метрические соотношения в окружности	10	1	Библиотека ЦОК https://m.edsoo.ru/7f41a12c
3	Векторы	12	1	Библиотека ЦОК https://m.edsoo.ru/7f41a12c
4	Декартовы координаты на плоскости	9	1	Библиотека ЦОК https://m.edsoo.ru/7f41a12c

№ п/п	Наименование разделов и тем программы	Количество часов		Электронные (цифровые) образовательные ресурсы
		Всего	Контрольные работы	
5	Правильные многоугольники. Длина окружности и площадь круга. Вычисление площадей	8		Библиотека ЦОК https://m.edsoo.ru/7f41a12c
6	Движения плоскости	6		Библиотека ЦОК https://m.edsoo.ru/7f41a12c
7	Повторение, обобщение, систематизация знаний	7	2	Библиотека ЦОК https://m.edsoo.ru/7f41a12c
ОБЩЕЕ КОЛИЧЕСТВО ЧАСОВ ПО ПРОГРАММЕ		68	6	

ПОУРОЧНОЕ ПЛАНИРОВАНИЕ 8 КЛАСС

№ п/п	Тема урока	Количество часов		Дата изучения	Электронные цифровые образовательные ресурсы
		Всего	Контрольные работы		
1	Параллелограмм, его признаки и свойства	1			Библиотека ЦОК https://m.edsoo.ru/88671af2
2	Параллелограмм, его признаки и свойства	1			Библиотека ЦОК https://m.edsoo.ru/88671ca0
3	Параллелограмм, его признаки и свойства	1			Библиотека ЦОК https://m.edsoo.ru/88671ca0
4	Частные случаи параллелограммов (прямоугольник, ромб, квадрат), их признаки и свойства	1			Библиотека ЦОК https://m.edsoo.ru/88671dea
5	Частные случаи параллелограммов (прямоугольник, ромб, квадрат), их признаки и свойства	1			Библиотека ЦОК https://m.edsoo.ru/88671f20
6	Частные случаи параллелограммов (прямоугольник, ромб, квадрат), их признаки и свойства	1			Библиотека ЦОК https://m.edsoo.ru/8867209c
7	Трапеция	1			Библиотека ЦОК https://m.edsoo.ru/88672358
8	Равнобокая и прямоугольная трапеции	1			Библиотека ЦОК https://m.edsoo.ru/8867252e
9	Равнобокая и прямоугольная трапеции	1			Библиотека ЦОК https://m.edsoo.ru/88672858
10	Метод удвоения медианы	1			Библиотека ЦОК https://m.edsoo.ru/88672b

№ п/п	Тема урока	Количество часов		Дата изучения	Электронные цифровые образовательные ресурсы
		Всего	Контрольные работы		
					14
11	Центральная симметрия	1			Библиотека ЦОК https://m.edsoo.ru/88672b14
12	Контрольная работа по теме "Четырёхугольники"	1	1		Библиотека ЦОК https://m.edsoo.ru/88672c9a
13	Теорема Фалеса и теорема о пропорциональных отрезках	1			Библиотека ЦОК https://m.edsoo.ru/8867337a
14	Средняя линия треугольника	1			Библиотека ЦОК https://m.edsoo.ru/88672e0c
15	Средняя линия треугольника	1			Библиотека ЦОК https://m.edsoo.ru/88672f38
16	Трапеция, её средняя линия	1			Библиотека ЦОК https://m.edsoo.ru/88672358
17	Трапеция, её средняя линия	1			Библиотека ЦОК https://m.edsoo.ru/88673064
18	Пропорциональные отрезки	1			Библиотека ЦОК https://m.edsoo.ru/88673794
19	Пропорциональные отрезки	1			Библиотека ЦОК https://m.edsoo.ru/88673794
20	Центр масс в треугольнике	1			Библиотека ЦОК https://m.edsoo.ru/886738fc
21	Подобные треугольники	1			Библиотека ЦОК https://m.edsoo.ru/88673a78
22	Три признака подобия треугольников	1			Библиотека ЦОК https://m.edsoo.ru/88673bae
23	Три признака подобия треугольников	1			Библиотека ЦОК https://m.edsoo.ru/88673d52
24	Три признака подобия треугольников	1			Библиотека ЦОК https://m.edsoo.ru/8867400e
25	Три признака подобия	1			

№ п/п	Тема урока	Количество часов		Дата изучени я	Электронные цифровые образовательные ресурсы
		Всего	Контрольны е работы		
	треугольников				
26	Применение подобия при решении практических задач	1			
27	Контрольная работа по теме "Подобные треугольники"	1	1		Библиотека ЦОК https://m.edsoo.ru/8867445a
28	Свойства площадей геометрических фигур	1			Библиотека ЦОК https://m.edsoo.ru/886745fe
29	Формулы для площади треугольника, параллелограмма	1			Библиотека ЦОК https://m.edsoo.ru/88674860
30	Формулы для площади треугольника, параллелограмма	1			Библиотека ЦОК https://m.edsoo.ru/88674a22
31	Формулы для площади треугольника, параллелограмма	1			Библиотека ЦОК https://m.edsoo.ru/88674a22
32	Формулы для площади треугольника, параллелограмма	1			Библиотека ЦОК https://m.edsoo.ru/88675288
33	Формулы для площади треугольника, параллелограмма	1			Библиотека ЦОК https://m.edsoo.ru/8867542c
34	Вычисление площадей сложных фигур	1			Библиотека ЦОК https://m.edsoo.ru/88674e78
35	Площади фигур на клетчатой бумаге	1			Библиотека ЦОК https://m.edsoo.ru/8867473e
36	Площади подобных фигур	1			
37	Площади подобных фигур	1			
38	Задачи с практическим содержанием	1			Библиотека ЦОК https://m.edsoo.ru/88675558
39	Задачи с практическим содержанием	1			Библиотека ЦОК https://m.edsoo.ru/88675684
40	Решение задач с помощью метода вспомогательной площади	1			Библиотека ЦОК https://m.edsoo.ru/88674f90
41	Контрольная работа по теме "Площадь"	1	1		Библиотека ЦОК https://m.edsoo.ru/8867579c

№ п/п	Тема урока	Количество часов		Дата изучения	Электронные цифровые образовательные ресурсы
		Всего	Контрольные работы		
42	Теорема Пифагора и её применение	1			Библиотека ЦОК https://m.edsoo.ru/88675918
43	Теорема Пифагора и её применение	1			Библиотека ЦОК https://m.edsoo.ru/88675918
44	Теорема Пифагора и её применение	1			Библиотека ЦОК https://m.edsoo.ru/88675abc
45	Теорема Пифагора и её применение	1			
46	Теорема Пифагора и её применение	1			
47	Определение тригонометрических функций острого угла прямоугольного треугольника, тригонометрические соотношения в прямоугольном треугольнике	1			Библиотека ЦОК https://m.edsoo.ru/88675d32
48	Основное тригонометрическое тождество	1			Библиотека ЦОК https://m.edsoo.ru/88675f44
49	Основное тригонометрическое тождество	1			
50	Основное тригонометрическое тождество	1			
51	Контрольная работа по теме "Теорема Пифагора и начала тригонометрии"	1	1		Библиотека ЦОК https://m.edsoo.ru/8a1407e8
52	Вписанные и центральные углы, угол между касательной и хордой	1			Библиотека ЦОК https://m.edsoo.ru/8a1415b2
53	Вписанные и центральные углы, угол между касательной и хордой	1			Библиотека ЦОК https://m.edsoo.ru/8a141940
54	Вписанные и центральные углы, угол между касательной и хордой	1			Библиотека ЦОК https://m.edsoo.ru/8a141b34
55	Углы между хордами и секущими	1			
56	Углы между хордами и секущими	1			
57	Вписанные и описанные четырёхугольники, их признаки и свойства	1			Библиотека ЦОК https://m.edsoo.ru/8a140f86
58	Вписанные и описанные четырёхугольники, их признаки и свойства	1			Библиотека ЦОК https://m.edsoo.ru/8a1416d4

№ п/п	Тема урока	Количество часов		Дата изучения	Электронные цифровые образовательные ресурсы
		Всего	Контрольные работы		
59	Вписанные и описанные четырёхугольники, их признаки и свойства	1			Библиотека ЦОК https://m.edsoo.ru/8a1416d4
60	Применение свойств вписанных и описанных четырёхугольников при решении геометрических задач	1			
61	Применение свойств вписанных и описанных четырёхугольников при решении геометрических задач	1			
62	Взаимное расположение двух окружностей, общие касательные	1			Библиотека ЦОК https://m.edsoo.ru/8a1410a8
63	Касание окружностей	1			Библиотека ЦОК https://m.edsoo.ru/8a1410a8
64	Контрольная работа по теме "Углы в окружности. Вписанные и описанные четырехугольники"	1	1		Библиотека ЦОК https://m.edsoo.ru/8a141c88
65	Повторение основных понятий и методов курсов 7 и 8 классов, обобщение знаний	1			Библиотека ЦОК https://m.edsoo.ru/8a141ddc
66	Повторение основных понятий и методов курсов 7 и 8 классов, обобщение знаний	1			Библиотека ЦОК https://m.edsoo.ru/8a141efe
67	Итоговая контрольная работа	1	1		Библиотека ЦОК https://m.edsoo.ru/8a142368
68	Повторение основных понятий и методов курсов 7 и 8 классов, обобщение знаний	1			Библиотека ЦОК https://m.edsoo.ru/8a1420ac
ОБЩЕЕ КОЛИЧЕСТВО ЧАСОВ ПО ПРОГРАММЕ		68	6		

9 КЛАСС

№ п/п	Тема урока	Количество часов		Дата изучения	Электронные цифровые образовательные ресурсы
		Всего	Контрольные работы		
1	Определение тригонометрических функций углов от 0° до 180°	1			Библиотека ЦОК https://m.edsoo.ru/8a1424bc
2	Формулы приведения	1			
3	Теорема косинусов	1			Библиотека ЦОК https://m.edsoo.ru/8a14336c

№ п/п	Тема урока	Количество часов		Дата изучения	Электронные цифровые образовательные ресурсы
		Всего	Контрольные работы		
4	Теорема косинусов	1			
5	Теорема косинусов	1			Библиотека ЦОК https://m.edsoo.ru/8a142d5e
6	Теорема синусов	1			Библиотека ЦОК https://m.edsoo.ru/8a142e8a
7	Теорема синусов	1			
8	Теорема синусов	1			
9	Нахождение длин сторон и величин углов треугольников	1			Библиотека ЦОК https://m.edsoo.ru/8a1430b0
10	Решение треугольников	1			Библиотека ЦОК https://m.edsoo.ru/8a142ac0
11	Решение треугольников	1			Библиотека ЦОК https://m.edsoo.ru/8a142ac0
12	Решение треугольников	1			Библиотека ЦОК https://m.edsoo.ru/8a142ac0
13	Решение треугольников	1			Библиотека ЦОК https://m.edsoo.ru/8a142ac0
14	Практическое применение теорем синусов и косинусов	1			Библиотека ЦОК https://m.edsoo.ru/8a142c3c
15	Практическое применение теорем синусов и косинусов	1			
16	Контрольная работа по теме "Решение треугольников"	1	1		Библиотека ЦОК https://m.edsoo.ru/8a14392a
17	Понятие о преобразовании подобия	1			Библиотека ЦОК https://m.edsoo.ru/8a143ab0
18	Соответственные элементы подобных фигур	1			Библиотека ЦОК https://m.edsoo.ru/8a143de4
19	Соответственные элементы подобных фигур	1			
20	Теорема о произведении отрезков хорд, теорема о произведении отрезков секущих, теорема о квадрате касательной	1			Библиотека ЦОК https://m.edsoo.ru/8a14406e
21	Теорема о произведении отрезков хорд, теорема о произведении отрезков секущих, теорема о квадрате касательной	1			Библиотека ЦОК https://m.edsoo.ru/8a1441a4
22	Теорема о произведении отрезков хорд, теорема о произведении отрезков секущих, теорема о квадрате касательной	1			Библиотека ЦОК https://m.edsoo.ru/8a1442da
23	Применение теорем в решении геометрических задач	1			Библиотека ЦОК https://m.edsoo.ru/8a143f06

№ п/п	Тема урока	Количество часов		Дата изучения	Электронные цифровые образовательные ресурсы
		Всего	Контрольные работы		
24	Применение теорем в решении геометрических задач	1			Библиотека ЦОК https://m.edsoo.ru/8a1443fc
25	Применение теорем в решении геометрических задач	1			Библиотека ЦОК https://m.edsoo.ru/8a144578
26	Контрольная работа по теме "Преобразование подобия. Метрические соотношения в окружности"	1	1		Библиотека ЦОК https://m.edsoo.ru/8a1447a8
27	Определение векторов. Физический и геометрический смысл векторов	1			Библиотека ЦОК https://m.edsoo.ru/8a144960
28	Сложение и вычитание векторов, умножение вектора на число	1			Библиотека ЦОК https://m.edsoo.ru/8a144a8c
29	Сложение и вычитание векторов, умножение вектора на число	1			Библиотека ЦОК https://m.edsoo.ru/8a144d52
30	Сложение и вычитание векторов, умножение вектора на число	1			
31	Разложение вектора по двум неколлинеарным векторам	1			
32	Координаты вектора	1			Библиотека ЦОК https://m.edsoo.ru/8a144fbe
33	Скалярное произведение векторов, его применение для нахождения длин и углов	1			Библиотека ЦОК https://m.edsoo.ru/8a14539c
34	Скалярное произведение векторов, его применение для нахождения длин и углов	1			Библиотека ЦОК https://m.edsoo.ru/8a14550e
35	Решение задач с помощью векторов	1			Библиотека ЦОК https://m.edsoo.ru/8a144c3a
36	Решение задач с помощью векторов	1			Библиотека ЦОК https://m.edsoo.ru/8a1458c4
37	Применение векторов для решения задач физики	1			
38	Контрольная работа по теме "Векторы"	1	1		Библиотека ЦОК https://m.edsoo.ru/8a145b08
39	Декартовы координаты точек на плоскости	1			
40	Уравнение прямой	1			Библиотека ЦОК https://m.edsoo.ru/8a145c48
41	Уравнение прямой	1			
42	Уравнение окружности	1			Библиотека ЦОК https://m.edsoo.ru/8a14635a
43	Координаты точек пересечения	1			Библиотека ЦОК

№ п/п	Тема урока	Количество часов		Дата изучения	Электронные цифровые образовательные ресурсы
		Всего	Контрольные работы		
	окружности и прямой				https://m.edsoo.ru/8a146620
44	Метод координат при решении геометрических задач, практических задач	1			
45	Метод координат при решении геометрических задач, практических задач	1			
46	Метод координат при решении геометрических задач, практических задач	1			
47	Контрольная работа по теме "Декартовы координаты на плоскости"	1	1		Библиотека ЦОК https://m.edsoo.ru/8a146e0e
48	Правильные многоугольники, вычисление их элементов	1			Библиотека ЦОК https://m.edsoo.ru/8a146fda
49	Число π . Длина окружности	1			Библиотека ЦОК https://m.edsoo.ru/8a1472c8
50	Число π . Длина окружности	1			Библиотека ЦОК https://m.edsoo.ru/8a14714c
51	Длина дуги окружности	1			
52	Радианная мера угла	1			Библиотека ЦОК https://m.edsoo.ru/8a14714c
53	Площадь круга, сектора, сегмента	1			Библиотека ЦОК https://m.edsoo.ru/8a147426
54	Площадь круга, сектора, сегмента	1			Библиотека ЦОК https://m.edsoo.ru/8a147750
55	Площадь круга, сектора, сегмента	1			Библиотека ЦОК https://m.edsoo.ru/8a147750
56	Понятие о движении плоскости	1			Библиотека ЦОК https://m.edsoo.ru/8a147c82
57	Параллельный перенос, поворот	1			Библиотека ЦОК https://m.edsoo.ru/8a147f16
58	Параллельный перенос, поворот	1			Библиотека ЦОК https://m.edsoo.ru/8a147f16
59	Параллельный перенос, поворот	1			
60	Параллельный перенос, поворот	1			
61	Применение движений при решении задач	1			Библиотека ЦОК https://m.edsoo.ru/8a1480e2
62	Контрольная работа по темам "Правильные многоугольники. Окружность. Движения плоскости"	1	1		
63	Повторение, обобщение,	1			Библиотека ЦОК

№ п/п	Тема урока	Количество часов		Дата изучения	Электронные цифровые образовательные ресурсы
		Всего	Контрольные работы		
	систематизация знаний. Измерение геометрических величин. Треугольники				https://m.edsoo.ru/8a148524
64	Повторение, обобщение, систематизация знаний. Параллельные и перпендикулярные прямые	1			Библиотека ЦОК https://m.edsoo.ru/8a148650
65	Повторение, обобщение, систематизация знаний. Окружность и круг. Геометрические построения. Углы в окружности	1			
66	Повторение, обобщение, систематизация знаний. Вписанные и описанные окружности многоугольников	1			
67	Итоговая контрольная работа	1	1		Библиотека ЦОК https://m.edsoo.ru/8a148920
68	Повторение, обобщение, систематизация знаний	1			
ОБЩЕЕ КОЛИЧЕСТВО ЧАСОВ ПО ПРОГРАММЕ		68	6		

**УЧЕБНО-МЕТОДИЧЕСКОЕ ОБЕСПЕЧЕНИЕ ОБРАЗОВАТЕЛЬНОГО
ПРОЦЕССА
ОБЯЗАТЕЛЬНЫЕ УЧЕБНЫЕ МАТЕРИАЛЫ ДЛЯ УЧЕНИКА**

Атанасян Л.С., Бутузов В.Ф., Кадомцев С.Б. и другие, Геометрия, 7–9 класс, Акционерное общество "Издательство "Просвещение";

МЕТОДИЧЕСКИЕ МАТЕРИАЛЫ ДЛЯ УЧИТЕЛЯ

- Зив Б.Г., Мейлер В.М. Геометрия. 8 класс. Дидактические материалы
- Дидактические материалы по геометрии. 8 класс. К учебнику Атанасяна Л.С. - Мельникова Н.Б., Захарова Г.А.
- Зив Б.Г., Мейлер В.М. Геометрия. 9 класс. Дидактические материалы
- Дидактические материалы по геометрии. 9 класс. К учебнику Атанасяна Л.С. - Мельникова Н.Б., Захарова Г.А.
- Самостоятельные и контрольные работы АЛГЕБРА, ГЕОМЕТРИЯ, А.П. Ершова, В.В. Голобородько, А.С. Ершова.

ЦИФРОВЫЕ ОБРАЗОВАТЕЛЬНЫЕ РЕСУРСЫ И РЕСУРСЫ СЕТИ ИНТЕРНЕТ

<https://uchi.ru/>

<https://sdamgia.ru/>

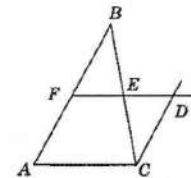
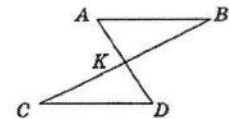
<https://www.yaklass.ru/>

<https://edu.skysmart.ru/>

ПРИЛОЖЕНИЕ 1. Примерные контрольные работы для 8 класса

ПРИМЕРНАЯ ВХОДНАЯ КОНТРОЛЬНАЯ РАБОТА

1. В треугольнике ABC $AC = BC$. Внешний угол при вершине A равен 123° . Найдите угол C . Ответ дайте в градусах.
2. В равнобедренном треугольнике один из углов равен 120° , боковая сторона 12 см. Найдите высоту, проведенную к основанию.
3. На рисунке отрезки AB и CD параллельны и равны. Докажите, что точка K является серединой отрезка BC .
4. На рисунке прямые CD и EF параллельны сторонам треугольника ABC . Найдите углы треугольника CED , если $\angle A = 72^\circ$, $\angle B = 26^\circ$.
5. На биссектрисе BM равнобедренного треугольника ABC с основанием AC отмечена точка D , на отрезке AM – точка E и на отрезке CM – точка F , причем $EM = FM$. Найдите $\angle CFD$, если $\angle FDE = 80^\circ$



№ задания	Содержание критерия	Количество баллов
1	Уметь строить и исследовать простейшие математические модели	1
2	Уметь выполнять действия с геометрическими фигурами	1
3	Проводить доказательные рассуждения при решении задач	1
4	Уметь выполнять действия с геометрическими фигурами	1
5	Уметь выполнять действия с геометрическими фигурами	2
		Итого: 6

ПРИМЕРНАЯ КОНТРОЛЬНАЯ РАБОТА №1 ПО ТЕМЕ: «ЧЕТЫРЁХУГОЛЬНИКИ»

1. Периметр параллелограмма 50 см. Одна из его сторон на 5 см больше другой. Найдите длины сторон параллелограмма.
2. Найдите угол между диагоналями прямоугольника, если каждая из них делит угол прямоугольника в отношении 4 : 5.

3. Найдите углы параллелограмма, если одна из его диагоналей является высотой и равна одной из его сторон.
4. В трапеции ABCD диагональ BD перпендикулярна боковой стороне AB, $\angle ADB = \angle BDC = 30^\circ$. Найдите длину AD, если периметр трапеции 60 см.
5. Внутри квадрата ABCD выбрана точка M так, что треугольник AMD равносторонний. Найдите угол AMB.

№ задания	Содержание критерия	Количество баллов
1	Уметь выполнять действия с геометрическими фигурами	1
2	Уметь выполнять действия с геометрическими фигурами	1
3	Уметь выполнять действия с геометрическими фигурами	1
4	Уметь выполнять действия с геометрическими фигурами	1
5	Уметь выполнять действия с геометрическими фигурами	2
		Итого: 6

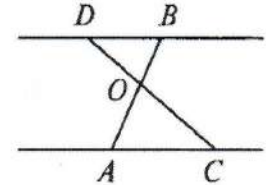
ПРИМЕРНАЯ КОНТРОЛЬНАЯ РАБОТА №2 ТЕМЕ: «ПЛОЩАДИ»

1. Смежные стороны параллелограмма равны 52 см и 30 см, а острый угол равен 30° . Найдите площадь параллелограмма.
2. Вычислите площадь трапеции ABCD с основаниями AD и BC, если $AD = 24$ см, $BC = 16$ см, $\angle A = 45^\circ$, $\angle D = 90^\circ$.
3. Дан треугольник ABC. На стороне AC отмечена точка C так, что $AK = 6$ см, $KC = 9$ см. Найдите площади треугольников ABK и CBK, если $AB = 13$ см, $BC = 14$ см.
4. * Высота равностороннего треугольника равна 6 см. Найдите сумму расстояний от произвольной точки, взятой внутри этого треугольника, до его сторон.

№ задания	Содержание критерия	Количество баллов
1	Уметь выполнять действия с геометрическими фигурами	1
2	Уметь выполнять действия с геометрическими фигурами	1
3	Уметь выполнять действия с геометрическими фигурами	1
4	Уметь выполнять действия с геометрическими фигурами	2
		Итого: 5

ПРИМЕРНАЯ КОНТРОЛЬНАЯ РАБОТА №3 ПО ТЕМЕ «ПОДОБНЫЕ ТРЕУГОЛЬНИКИ»

1. На рисунке $AO = 6,8$ см, $CO = 8,4$ см, $OB = 5,1$ см, $OD = 6,3$ см.
Доказать: $AC \parallel BD$. Найти: а) $DB : AC$, б) $PAOC : PDBO$, в) $SDBO : SAOC$.
2. Диагонали ромба $ABCD$ пересекаются в точке O , $BD = 16$ см. На стороне AB взята точка K так, что $OK \perp AB$ и $OK = 4\sqrt{3}$ см. Найдите сторону ромба и вторую диагональ.
3. В выпуклом четырехугольнике $ABCD$ $AB = 9$ см, $BC = 8$ см, $CD = 16$ см, $AD = 6$ см, $BD = 12$ см. Докажите, что $ABCD$ — трапеция.
4. * В равнобедренном треугольнике MNK с основанием MK , равным 10 см, $MN = NK = 20$ см. На стороне NK лежит точка A так, что $AK : AN = 1 : 3$. Найдите AM .



№ задания	Содержание критерия	Количество баллов
1	Уметь выполнять действия с геометрическими фигурами	1
2	Уметь выполнять действия с геометрическими фигурами	1
3	Уметь выполнять действия с геометрическими фигурами	1
4	Уметь выполнять действия с геометрическими фигурами	2
		Итого: 5

ПРИМЕРНАЯ КОНТРОЛЬНАЯ РАБОТА №4 ПО ТЕМЕ: «СООТНОШЕНИЯ МЕЖДУ СТОРОНАМИ И УГЛАМИ ПРЯМОУГОЛЬНОГО ТРЕУГОЛЬНИКА»

1. На стороне BC треугольника ABC выбрана точка D так, что $BD : DC = 3 : 2$, точка K — середина отрезка AB , точка F — середина отрезка AD , $KF = 6$ см, $\angle ADC = 100^\circ$. Найдите BC и $\angle AFK$.
2. В прямоугольном треугольнике ABC $\angle C = 90^\circ$, $AC = 4$ см, $CB = 4\sqrt{3}$ см, CM — медиана. Найдите угол BCM .
3. В равнобедренной трапеции основания равны 8 см и 12 см, меньший угол равен α . Найдите периметр и площадь трапеции.
4. В равнобедренном треугольнике ABC с основанием AC медианы пересекаются в точке O . Найдите площадь треугольника ABC , если $OA = 13$ см, $OB = 10$ см.
5. * В трапеции $ABCD$ ($BC \parallel AD$) $AB \perp BD$, $BD = 2\sqrt{5}$, $AD = 2\sqrt{10}$, CE — высота треугольника BCE , а $\tan \angle ECD = 3$. Найдите BE .

№ задания	Содержание критерия	Количество баллов
1	Уметь выполнять действия с геометрическими фигурами	1
2	Уметь выполнять действия с геометрическими фигурами	1

3	Уметь выполнять действия с геометрическими фигурами	1
4	Уметь выполнять действия с геометрическими фигурами	1
5	Уметь выполнять действия с геометрическими фигурами	2
		Итого: 6

ПРИМЕРНАЯ КОНТРОЛЬНАЯ РАБОТА №5 ПО ТЕМЕ: «ОКРУЖНОСТЬ»

1. В треугольник вписана окружность так, что три из шести получившихся отрезков касательных равны 3 см, 4 см, 5 см. Определите вид треугольника.
2. Точки А и В делят окружность с центром О на дуги АМВ и АСВ так, что дуга АСВ на 60° меньше дуги АМВ. АМ — диаметр окружности. Найдите углы АМВ, АВМ, АСВ.
3. Хорды АВ и CD пересекаются в точке Е так, что $АЕ = 3$ см, $ВЕ = 36$ см, $СЕ : DE = 3 :$
4. Найдите CD и наименьшее значение радиуса этой окружности.
4. * В равнобедренном треугольнике боковая сторона равна 10 см, а биссектриса, проведенная к основанию, — 8 см. Найдите радиус окружности, вписанной в этот треугольник, и радиус окружности, описанной около этого треугольника.

№ задания	Содержание критерия	Количество баллов
1	Уметь выполнять действия с геометрическими фигурами	1
2	Уметь выполнять действия с геометрическими фигурами	1
3	Уметь выполнять действия с геометрическими фигурами	1
4	Уметь выполнять действия с геометрическими фигурами	2
		Итого: 5

ПРИЛОЖЕНИЕ 2. Примерные контрольные работы для 9 класса

ПРИМЕРНАЯ ВХОДНАЯ КОНТРОЛЬНАЯ РАБОТА

1. Боковая сторона равнобедренного треугольника равна 10 см, а его основание 12 см. Найдите его площадь.
2. Биссектриса угла А параллелограмма ABCD делит сторону BC на отрезки BK и KC, равные соответственно 8 см и 4 см. Найдите периметр параллелограмма.
3. В трапеции ABCD углы А и В прямые. Диагональ AC — биссектриса угла А и равна 6 см. Найдите площадь трапеции, если угол CDA равен 60° .
4. В окружности проведены две хорды АВ и CD, пересекающиеся в точке К, $КС = 6$ см, $АК = 8$ см, $ВК + DK = 28$ см. Найдите длины BK и DK.
5. Квадрат со стороной 8 см описан около окружности. Найдите площадь прямоугольного треугольника с острым углом 30° , вписанного в данную окружность.

№ задания	Содержание критерия	Количество баллов
1	Уметь строить и исследовать простейшие математические модели	1
2	Уметь выполнять действия с геометрическими фигурами	1
3	Уметь выполнять действия с геометрическими фигурами	1
4	Уметь выполнять действия с геометрическими фигурами	1
5	Уметь выполнять действия с геометрическими фигурами	1
		Итого: 5

ПРИМЕРНАЯ КОНТРОЛЬНАЯ РАБОТА №1 ПО ТЕМЕ: «ВЕКТОРЫ»

1. Начертите неколлинеарные векторы a, b, c . Постройте векторы, равные: а) $a/3 + c/2$; б) $-a + 2b/3 + 0,5c$.
2. На сторонах BC и CD параллелограмма $ABCD$ отмечены точки K и E так, что $BK = KC, CE : ED = 2 : 3$. Выразите векторы AK, AE, KE через векторы $a = AB$ и $b = AD$.
3. В трапеции $ABCD \angle A = 60^\circ, \angle D = 45^\circ$, боковые стороны равны 10 см и 12 см, а меньшее основание 8 см. Найдите среднюю линию трапеции.
4. * В треугольнике ABC точка B_1 — середина AC , точка A_1 лежит на стороне BC так, что $BA_1 : A_1C = 1 : 2$. Используя векторы, докажите, что середина BB_1 лежит на прямой AA_1 .

№ задания	Содержание критерия	Количество баллов
1	Уметь выполнять действия с координатами и векторами	1
2	Уметь выполнять действия с координатами и векторами	1
3	Уметь выполнять действия с координатами и векторами	1
4	Уметь выполнять действия с координатами и векторами	2
		Итого: 5

ПРИМЕРНАЯ КОНТРОЛЬНАЯ РАБОТА №2 ТЕМЕ: «МЕТОД КООРДИНАТ»

1. В прямоугольной системе координат даны векторы $a\{3; -2\}$ и $b\{1; -2\}$. Найдите координаты вектора $c = 5a - 9b$ и его длину. Постройте вектор c , если известно, что его конец совпадает с точкой $M(3; 2)$.
2. Выясните, принадлежит ли точка $A(1; \sqrt{3})$ окружности с центром в точке $B(5; 0)$ и радиусом, равным $\sqrt{19}$.
3. Докажите, что четырехугольник $MNKP$, заданный координатами своих вершин $M(2; 2), N(5; 3), K(6; 6), P(3; 5)$, является ромбом, и вычислите его площадь.
4. * В равнобедренном треугольнике основание равно 12 см, а высота, проведенная к основанию, равна 8 см. Найдите медиану, проведенную к боковой стороне.

№ задания	Содержание критерия	Количество баллов
1	Уметь выполнять действия с геометрическими фигурами	1
2	Уметь выполнять действия с геометрическими фигурами	1
3	Уметь выполнять действия с геометрическими фигурами	1
4	Уметь выполнять действия с геометрическими фигурами	2
		Итого: 5

**ПРИМЕРНАЯ КОНТРОЛЬНАЯ РАБОТА №3 ПО ТЕМЕ
«СООТНОШЕНИЯ МЕЖДУ СТОРОНАМИ И УГЛАМИ ТРЕУГОЛЬНИКА.
СКАЛЯРНОЕ ПРОИЗВЕДЕНИЕ ВЕКТОРОВ»**

1. В треугольнике ABC $AB = 6$ см, $AC = 8$ см, а его площадь равна $12\sqrt{2}$ см². Найдите третью сторону треугольника, если известно, что угол A — тупой.
2. В треугольнике MNK $\angle M = \alpha$, $\angle N = \beta$, $NK = a$. Определите стороны треугольника и его площадь.
3. В параллелограмме $ABCD$ $AB = 4$ см, $AD = 5\sqrt{2}$ см, $\angle A = 45^\circ$. Найдите диагонали параллелограмма.
4. Четырёхугольник $ABCD$ задан координатами своих вершин $A(-1; 1)$, $B(3; 3)$, $C(2; -2)$, $D(-2; -1)$. Найдите синус угла между его диагоналями.

№ задания	Содержание критерия	Количество баллов
1	Уметь выполнять действия с геометрическими фигурами	1
2	Уметь выполнять действия с геометрическими фигурами	1
3	Уметь выполнять действия с геометрическими фигурами	1
4	Уметь выполнять действия с геометрическими фигурами	1
		Итого: 4

**ПРИМЕРНАЯ КОНТРОЛЬНАЯ РАБОТА №4 ПО ТЕМЕ: «ДЛИНА ОКРУЖНОСТИ
И ПЛОЩАДЬ КРУГА»**

1. Около правильного треугольника описана окружность и в него вписана окружность. Найдите площадь меньшего круга и длину окружности, ограничивающей его, если радиус большей окружности равен $4\sqrt{3}$ см.
2. Длина дуги окружности с градусной мерой 120° равна 8π см. Вычислите площадь соответствующего данной дуге кругового сектора.
3. Вычислите площадь заштрихованной на рисунке фигуры, если $AO = 4$ см, $\angle AOB = 135^\circ$ (рис. 12.57).

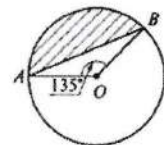


Рис. 12.57

4. * Периметр правильного четырехугольника, вписанного в окружность, на $16(\sqrt{2} - 1)$ см меньше периметра правильного четырехугольника, описанного около этой же окружности. Найдите радиус окружности.

№ задания	Содержание критерия	Количество баллов
1	Уметь выполнять действия с геометрическими фигурами	1
2	Уметь выполнять действия с геометрическими фигурами	1
3	Уметь выполнять действия с геометрическими фигурами	1
4	Уметь выполнять действия с геометрическими фигурами	2
		Итого: 5

ПРИМЕРНАЯ КОНТРОЛЬНАЯ РАБОТА №5 ПО ТЕМЕ: «ДВИЖЕНИЯ»

- Начертите треугольник ABC. Постройте его образ при:
 - симметрии относительно его высоты, выходящей из вершины A;
 - симметрии относительно точки D, являющейся серединой стороны AB;
 - параллельном переносе на вектор AM, где M — точка пересечения медиан треугольника;
 - повороте вокруг вершины C на 45° против часовой стрелки.
- Составьте уравнение образа окружности $x^2 + y^2 - 6x + 8y - 11 = 0$ при повороте на 90° против часовой стрелки относительно начала координат.
- * Начертите два непараллельных отрезка AB и CD, длины которых равны. Постройте центр поворота, отображающего отрезок AB на CD ($A \rightarrow C, B \rightarrow D$).

№ задания	Содержание критерия	Количество баллов
1	Уметь выполнять действия с геометрическими фигурами	1
2	Уметь выполнять действия с геометрическими фигурами	1
3	Уметь выполнять действия с геометрическими фигурами	2
		Итого: 4

ПРИЛОЖЕНИЕ 3

ШКАЛА ОЦЕНИВАНИЯ

Оценка «5» с 96-100%

Оценка «4» с 76-95%

Оценка «3» с 51-75%

Оценка «2» с 1-50%